

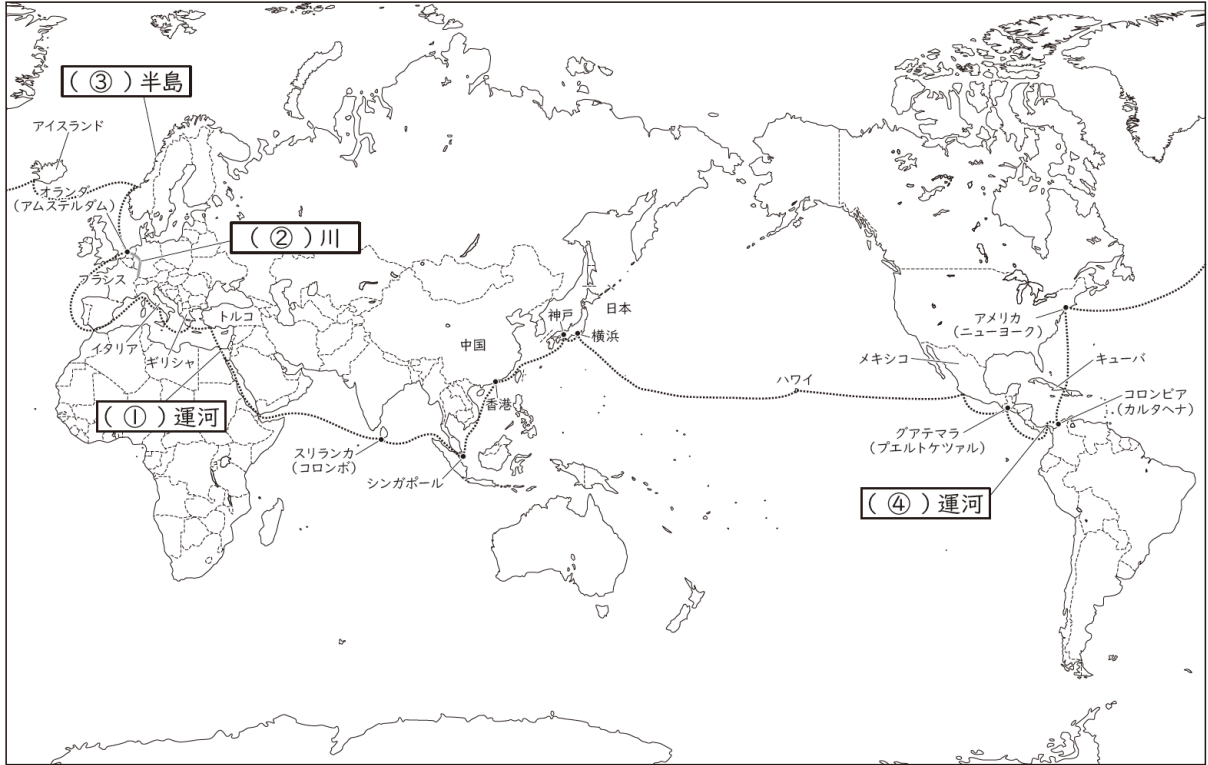
1 次の会話文を読んで、あとの問いに答えなさい。

しげお：「お父さん、何を見ているの？」

お父さん：「ああ、お父さんが定年退職したら夢だった世界一周の旅に出たいと思ってね。世界一周クルーズの広告を見ているんだ。」

しげお：「すごい！北極圏を通るコースなんだね。」

お父さん：「そうなんだ。」



お父さん：「神戸を出港して、香港～ a シンガポール～ b スリランカの**コロンボ**を経由し、(①)運河を通して地中海に出るんだね。そしてトルコ～ギリシャ～イタリア～ c **イベリア半島**をまわって d **フランスの海岸**に沿ってドーバー海峡を抜けて、国際河川である(②)川のほとりで古くから国際交易都市として栄えた**アムステルダム**へ。そして北海、(③)半島を北上、北極圏を通してアイスランドへ。この(③)半島と北極圏で2つの e **フィヨルド**を遊覧するんだ。」

しげお：「東アジアから f **東南アジア**、g **アラビア半島**と h **アフリカ大陸**の間を抜け、ヨーロッパから北極圏、とてもスケールの大きい航路だね！」

お父さん：「そこからもスケールは大きいぞ！大西洋を横断し、i **ニューヨーク**を目指す。」

しげお：「昔の北米への移民のような体験ができるんだね。」

お父さん：「その後、キューバを横切り、カリブ海を通して南米**コロンビア**の**カルタヘナ**へ。そして大西洋と太平洋をつなぐ(④)運河を通るんだ。」

しげお：「知っているよ！閘門(こうもん)を利用して水位を調整して船を昇降させる水のエレベーターがある運河だね。」

お父さん：「そうだよ。その後、**グアテマラ**の**プエルトケツアル**を経て j **メキシコ**に行くんだ。そして太平洋を渡って k **ハワイ**へ！」

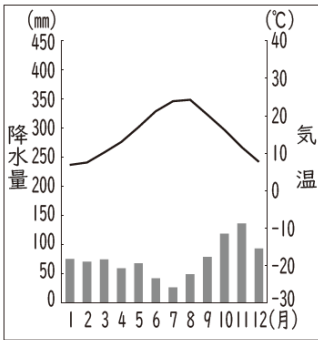
しげお：「お母さんと新婚旅行に行った思い出の地だね！」

お父さん：「うん、そして横浜から神戸へと戻るという行程だ。」

しげお：「お父さんの夢がかなうといいね！」

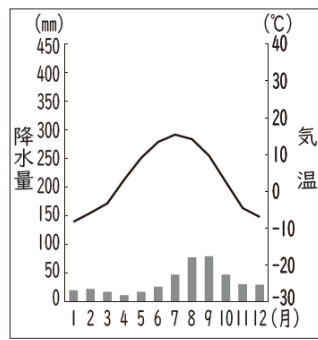
問1 会話文中の空欄(①)~(④)にあてはまる語句をそれぞれ答えなさい。

問2 会話文中の下線部aの雨温図として正しいものを、次のア~エより一つ選び、記号で答えなさい。



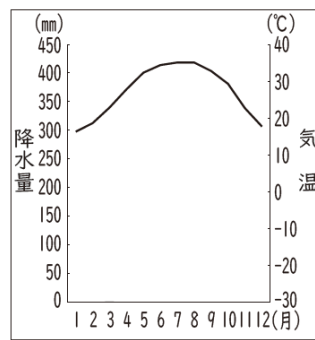
年平均気温：15.0°C 年降水量：893.1mm

ア



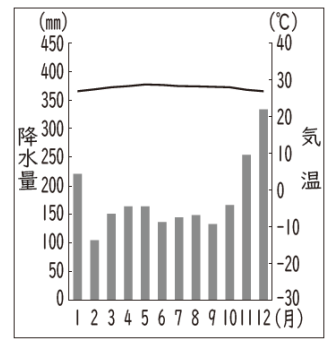
年平均気温：3.2°C 年降水量：425.2mm

イ



年平均気温：27.1°C 年降水量：3.6mm

ウ



年平均気温：27.8°C 年降水量：2122.7mm

エ

問3 会話文中の下線部bやインドのアッサム地方で盛んに栽培されている作物を、次のア~エより一つ選び、記号で答えなさい。

- ア. トウモロコシ イ. 小麦 ウ. 綿花 エ. 茶

問4 会話文中の下線部cに住む人々の多くを占める民族と信仰する宗派の組み合わせとして正しいものを、次のア~ケより一つ選び、記号で答えなさい。

- ア. ゲルマン系-カトリック イ. ゲルマン系-プロテスタント ウ. ゲルマン系-正教会
 エ. ラテン系-カトリック オ. ラテン系-プロテスタント カ. ラテン系-正教会
 キ. スラブ系-カトリック ク. スラブ系-プロテスタント ケ. スラブ系-正教会

問5 会話文中の下線部dの国に関連する文章としてその内容が正しいものを、次のア~エより一つ選び、記号で答えなさい。


- ア. この国は、2016年に国民投票でEU離脱を決め、2020年にEUを脱退した。
 イ. この国には、ドナウ川が流れている。
 ウ. この国の南部は、夏は高温で乾燥し、冬は比較的雨が降り多い気候である。
 エ. この国は、原子力に依存しない社会をめざしている。

問6 会話文中の下線部eに関連する次の文章I・IIを読み、その内容の正誤の組み合わせとして正しいものを、次のア~エより一つ選び、記号で答えなさい。

- I. 山地が海に沈んだり、海面が上昇したりすることで、谷の部分に海水が入り込んでできた海岸である。多くの湾や岬をもつ複雑に入り組んだ海岸線になり、天然の良港として使われることが多い。
 II. 湾の断面はU字型をしており、両岸は高い壁のような急斜となっている。北欧の他には、ニュージーランドや南米のパタゴニアなど、高緯度の地域にみられる地形である。

- ア. I-正・II-正 イ. I-正・II-誤 ウ. I-誤・II-正 エ. I-誤・II-誤

問7 次のグラフは、文章中の下線部fに位置するある国の輸出品の変化を示している。このグラフはどの国のものか、次のア~エより一つ選び、記号で答えなさい。



- ア. タイ イ. マレーシア ウ. インドネシア エ. ベトナム

問 8 会話文中の下線部 g は石油の埋蔵量が多く、ペルシア湾に面している。このペルシア湾の沿岸にあるアラブ首長国連邦内で、沖合に大きな人工島を持ち、金融やリゾート地として発展している都市を答えなさい。

問 9 会話文中の下線部 h に関連する次の文章 I・II を読み、その内容の正誤の組み合わせとして正しいものを、下のア～エより一つ選び、記号で答えなさい。

I. アフリカで使用される言語はサハラ砂漠の南北で大きく異なり、北アフリカではアラビア語が広く使われている。南部では各民族の言語が話されるが、植民地時代の宗主国であったヨーロッパの言語やスワヒリ語が公用語となっている。

II. アフリカでは植民地時代、プランテーションで地域の気候にあった輸出用の農産物が生産されていた。独立後も特定の農産物を集中的に栽培する農業が続いている国があり、ギニア湾岸のガーナやコートジボワールはカカオの世界的生産地となっている。

ア. I-正・II-正 イ. I-正・II-誤 ウ. I-誤・II-正 エ. I-誤・II-誤

問 10 会話文中の下線部 i について、東京とニューヨークの時差は何時間かを答えなさい。

※東京は東経135度、ニューヨークは西経75度として計算すること。また、サマータイムは考慮しない。

問 11 会話文中の下線部 j の国の最大の貿易相手国はどこか、次のア～エより一つ選び、記号で答えなさい。

ア. カナダ イ. アメリカ合衆国 ウ. 中国 エ. 日本

問 12 会話文中の下線部 k では、自然信仰がみられ、神話や物語、神への祈りを踊りであらわしてきた。下の写真がその踊りの様子である。この踊りを何というか答えなさい。



2 次の文章を読んで、あとの問いに答えなさい。

2025年4月、大阪で日本国際博覧会(大阪・関西万博)が開催された。地球規模の問題に取り組むために世界中から知識や技術が提供された。世界初の万国博覧会(以下万博)は、いち早く産業革命を起こした a イギリスの首都ロンドンで b 1851年に開催された。イギリスは、豊富な原料や資源以外に広大な市場を持っており、c 新しい技術の開発や産業の発展を支え、産業革命によって d 社会変化も起こった。のちに、各国で産業革命が広がり、万博が開催されるようになった。1853年の万博は、e アメリカのニューヨークで開催された。実用的なエレベーターを発表するなどして、国の威信と技術力の高さを示した。その後もフランスのパリや、日本が初めて政府として公式参加したオーストリアのウィーンなどで開催され、万博を通じて世界の技術が共有され、近代化が広がっていった。エッフェル塔、地下鉄、電話や冷蔵庫なども、万博で初めて紹介されたものである。

第一次世界大戦が始まったころには、アメリカのサンフランシスコで万博が開かれた。戦地であったヨーロッパから遠く離れていたために開催できた。万博がアメリカで開催される一方、1921年には f ワシントン会議が開かれた。

国際紛争の影響を受けた万博も多く、1937年のパリ万博は、g スペイン内戦の最中であり、h ドイツ館とソビエト社会主義共和国連邦館が向かい合って建てられ、イデオロギー対立の舞台になった。1940年は東京で万博が開催される予定であったが、日中戦争の激化により中止する運びとなった。i 第二次世界大戦後に初めて開催された本格的な万博は、ベルギーのブリュッセル万博である。朝鮮戦争の影響を受け延期されたが、原子力時代にちなんだシンボルとして、鉄の結晶を模した構造物のアトミウムが建設された。j 冷戦中に行われた1970年の大阪万博は、ベトナム戦争中に開催され、テーマは「人類の進歩と調和」であった。技術進歩による弊害に目を向けて、調和のある進歩をどう実現していくのかを考える万博であった。

万博は技術力アピールの場でもあるが、人類が直面している根本的な課題の解決策を見つけ、国際関係における理解の向上を促進させる機会として、平和な世界になるよう歩み寄るものでありたい。

問1 文章中の下線部 a について、次の問いに答えなさい。

(1) ピューリタン革命で国王を処刑し、共和政をはじめた中心人物を、次のア～エより一つ選び、記号で答えなさい。

ア. ルソー イ. クロムウェル ウ. ロック エ. モンテスキュー

(2) イギリスによる植民地化の過程で、1858年に滅亡した南アジアの帝国を答えなさい。

(3) 南京条約でイギリスが獲得した都市を、次のア～エより一つ選び、記号で答えなさい。

ア. 南京 イ. 広州 ウ. 香港 エ. 上海

問2 文章中の下線部 b の年におきた出来事を、次のア～エより一つ選び、記号で答えなさい。

ア. 甲午農民戦争 イ. 義和団事件 ウ. 太平天国の乱 エ. 五・四運動

問3 文章中の下線部 c について、蒸気機関を改良し、動力装置の発展に寄与した人物を答えなさい。

問4 文章中の下線部 d について、産業革命による社会変化を説明した次の説明 I・IIを読み、その内容の正誤の組み合わせとして正しいものを、次のア～エより一つ選び、記号で答えなさい。

I インドでは手工業の職人が失業した。

II 労働者は、労働時間の短縮や賃金の引き上げを求める労働運動を始めた。

ア. I-正・II-正 イ. I-正・II-誤 ウ. I-誤・II-正 エ. I-誤・II-誤

問5 文章中の下線部 e について、1861年におこった南北戦争中に奴隷解放宣言を出した大統領を答えなさい。

問6 文章中の下線部 f について、ワシントン会議で取り決められたこととして誤っているものを、次のア～エより一つ選び、記号で答えなさい。

- ア. 列強間の海軍の主力艦保有量の割合を定めた。
- イ. 日英同盟を解消すること。
- ウ. 日本が得た山東省の旧ドイツの利権を中国に返還すること。
- エ. 日本の領土は、本州、北海道、九州、四国と周辺の小島に限られること。

問7 文章中の下線部 g について、

右の作品は当時の惨状を描いたものである。

絵画の作者と作品名の組み合わせとして正しいものを、次のア～エより一つ選び、記号で答えなさい。

- ア. ダリの『記憶の固執』 イ. ムンクの『叫び』
- ウ. ピカソの『ゲルニカ』 エ. ゴッホの『星月夜』



問8 文章中の下線部 h について、当時ドイツのナチ党を率いた党首を答えなさい。

問9 文章中の下線部 i について、第二次世界大戦中の出来事として誤っているものを、次のア～エより一つ選び、記号で答えなさい。

- ア. ドイツはソ連との間で不可侵条約を結び、ポーランドに侵攻した。
- イ. 日本はドイツやイタリアと三国同盟を結び、アメリカやイギリスと戦った。
- ウ. フランスは終戦まで降伏することなく、独立を保った。
- エ. アメリカ・イギリス・ソ連の首脳によるヤルタ会談で、ヨーロッパの戦後処理を決定し、ソ連が対日参戦し、千島列島と南樺太を領有することが密約された。

問10 文章中の下線部 j について、冷戦期にアメリカが中心となって結ばれた軍事同盟として正しいものを、次のア～エより一つ選び、記号で答えなさい。

- ア. NATO イ. ASEAN ウ. OAU エ. EC

3 次の文章を読んで、あとの問いに答えなさい。

- A 6世紀のヤマト王権では、豪族間の対立が激しくなり、中でも財政を担当した蘇我氏は大きく勢力を伸ばした。(①) 天皇が即位すると、甥の a 聖徳太子(厩戸皇子) が蘇我馬子と協力して政治をおこなった。その後は蘇我氏を倒した中大兄皇子と中臣鎌足が、政治改革をおこなった。663年には百済支援のため朝鮮半島に大軍を送り、b 白村江の戦いで連合した【X】と戦ったが大敗した。
- B 白河天皇は皇位を譲って上皇となり、その後も自らが政治をおこなう(②)を開始した。12世紀、鳥羽上皇の死後は、天皇と上皇との対立や貴族間の対立が激しくなり、【Y】と平治の乱の二つの内乱が起こった。これら朝廷内の対立を武士が解決したことで、武士は大きな力をもつようになった。当時、平氏の棟梁であった c 平清盛 は隆盛を極め、平氏一族が官位を独占した。これに対し、天皇家や貴族は反発し、平氏打倒を掲げて源平の合戦が始まった。その後、1185年には d 壇ノ浦の戦いで平氏は滅ぼされた。
- C 鎌倉幕府滅亡後、(③)天皇によって開始された政治を建武の新政という。しかし武士の不満が高まったことで、足利尊氏が挙兵すると、京都と吉野に二つの朝廷が並び、互いに争う南北朝時代が始まった。1392年に南北朝を統一した室町幕府3代将軍足利義満は、朝廷の内部にも勢力を広げ、全国を統治する政権となった。
- D 1543年に鹿児島県の(④)に漂着した船に乗っていたポルトガル人によって日本に鉄砲が伝わった。その後、ポルトガル・スペイン船が来航し、南蛮貿易が始まった。鉄砲は刀鍛冶によって複製され全国に普及し、戦い方に変化をもたらした。中でも e 織田信長 は、f 鉄砲を用いて甲斐の武田軍を破った。1549年にはイエズス会の宣教師(⑤)が布教のために来日し、多くの信者を獲得した。戦国大名の中にもキリシタンとなり、領地を寄進する者まで現れた。また1582年には、これらキリシタン大名がキリシタン少年4人をローマ教皇のもとに派遣し、【Z】遣欧使節と呼ばれている。

問1 文章中の空欄(①)~(⑤)にあてはまる語句をそれぞれ答えなさい。

問2 文章中の下線部 a の時代の説明として誤っているものを、次のア~エより一つ選び、記号で答えなさい。

ア. 「和をもって貴しとなし、さからうことなきを、おねとなせ」で知られる、十七条の憲法が定められた。

イ. それまでの権威を示す古墳に代わり、飛鳥寺や法隆寺などの寺院が建立された。

ウ. 先進的な中国文化を取り入れるため、小野妹子らを遣唐使として派遣した。

エ. 家柄にとらわれず、才能や功績ある人物を役人に取り立てるため、冠の色などにより12の階級を示し、朝廷における位とした。

問3 文章中の下線部 b の後に設置され、平安時代に菅原道真の配流先ともなった九州防衛の拠点を答えなさい。

問4 文章中の【X】にあてはまる語句を、次のア~エより一つ選び、記号で答えなさい。

ア. 隋・高句麗 イ. 隋・新羅 ウ. 唐・高句麗 エ. 唐・新羅

問5 文章中の下線部 c について、この人物を説明した文として正しいものを、次のア~エより一つ選び、記号で答えなさい。

ア. 瀬戸内海の航路を整え、大輪田泊を修築し、日明貿易を積極的にこなした。

イ. 武士の最高官職である征夷大將軍に就任し、平氏の一門の栄華を極めた。

ウ. 海上交通の安全と一族の繁栄を祈って厳島神社を整備した。

エ. 平治の乱に勝利し、のちの源氏の棟梁となる源義経を伊豆へ流刑とした。

問6 文章中の下線部 d について、現在の県名として正しいものを、次のア～エより一つ選び、記号で答えなさい。

ア. 兵庫県 イ. 福岡県 ウ. 広島県 エ. 山口県

問7 文章中の【 Y 】にあてはまる語句を、次のア～エより一つ選び、記号で答えなさい。

ア. 保元の乱 イ. 壬申の乱 ウ. 承久の乱 エ. 応仁の乱

問8 次の資料に描かれている、文章 B の時代に大寺院によって組織された武装集団を何というか答えなさい。



問9 文章Cについて、室町時代の外交・国際情勢について説明した文として誤っているものを、次のア～エより一つ選び、記号で答えなさい。

ア. 中国との貿易では、日本から銅銭・刀剣などが主に輸出され、茶や生糸が輸入された。

イ. 南北朝時代のころから、倭寇と呼ばれる海賊集団が朝鮮や中国沿岸部を襲っていた。

ウ. 中国との貿易においては、正式な貿易船であることを示すため勘合が用いられた。

エ. 当時の中国は民間の貿易を禁止し、朝貢をしてきた国とのみ貿易する朝貢貿易であった。

問10 文章中の下線部 e について説明した文として誤っているものを、次のア～エより一つ選び、記号で答えなさい。

ア. 比叡山延暦寺を焼き討ちし、大阪の本願寺を降伏させた。

イ. キリスト教徒が天下統一のさまたげになると考え、宣教師の国外追放を命じた。

ウ. 1582年に家臣の明智光秀に背かれ、京都の本能寺で自害した。

エ. 商人たちに市の税を免除し、自由な営業を認めて商工業の発展を促した。

問11 文章中の下線部 f について、この資料で描かれている戦いを何というか答えなさい。



問12 文章中の【 Z 】にあてはまる語句を、次のア～エより一つ選び、記号で答えなさい。

ア. 天明 イ. 天正 ウ. 正長 エ. 慶長

4 次の日本国憲法の条文を読んで、あとの問いに答えなさい。

日本国憲法 第41条

a 国会は、(①)の最高機関であって、国の唯一の(②)機関である。

日本国憲法 第42条

国会は、b 衆議院及び c 参議院の両議院でこれを構成する。

問1 日本国憲法条文中の空欄(①)・(②)にあてはまる語句をそれぞれ漢字2字で答えなさい。

問2 下線部 a の仕事ではないものを、次のア～エより一つ選び、記号で答えなさい。

ア. 法律案の議決 イ. 条約の締結 ウ. 内閣総理大臣の指名 エ. 弾劾裁判所の設置

問3 下線部 a の種類についての説明として誤っているものを、次のア～エより一つ選び、記号で答えなさい。

ア. 常会(通常国会)は、年2回、1月と6月に召集される。

イ. 臨時会(臨時国会)は、内閣または、いずれかの議院の総議員の4分の1以上の要求がある場合に召集される。

ウ. 特別会(特別国会)は、衆議院解散後の総選挙の日から30日以内に召集される。

エ. 参議院の緊急集会は、衆議院の解散中、緊急の必要があるとき、内閣の求めによって開かれる。

問4 下線部 a の審議についての説明として誤っているものを、次のア～エより一つ選び、記号で答えなさい。

ア. 日本の国会では、議員立法は成立が少なく、内閣提出の法案は成立が多い傾向にある。

イ. 国会に提出された議案は、多種多様なため、まず議員が分かれて参加する委員会で審議される。

ウ. 委員会で採決された法律案や予算は、議員全員から成る本会議にすすむ。

エ. 両院の議決が異なる場合、国政調査に基づく証人喚問がおこなわれる。

問5 下線部 b について、衆議院の優越事項として誤っているものを、次のア～エより一つ選び、記号で答えなさい。

ア. 法律案の議決 イ. 条約の承認 ウ. 内閣総理大臣の任命 エ. 予算の先議

問6 下線部 b と下線部 c について、下の表をみてあとの問いに答えなさい。

	衆議院	参議院
議員定数	465人	248人
被選挙権	満(①)歳以上	満(②)歳以上
任期	(③)年(解散あり)	(④)年(解散なし)
選挙区	d 小選挙区289人、比例代表176人	選挙区148人、比例代表100人

(1) 表中の空欄(①)～(④)にあてはまる数字の組み合わせとして正しいものを、次のア～エより一つ選び、記号で答えなさい。

ア. ①25 ②20 ③6 ④4 イ. ①30 ②25 ③4 ④6

ウ. ①25 ②30 ③4 ④6 エ. ①20 ②25 ③6 ④4

(2) 表中の下線部dの衆議院の選挙制度を何というか答えなさい。

5 次の文章を読んで、あとの問いに答えなさい。

私たちは、a 合意があれば、だれと、どのような内容の契約をどのようなかたちで結んでも自由で、結ばない自由もある。b 一度自分の意思で結んだ契約は、基本的に、合意がなければ取り消すことはできない。しかし、実際の経済では、消費者と生産者の間で、知ることのできる知識の範囲や、情報量に大きな差がある。そのため情報量の少ない c 消費者を保護するためさまざまな法や制度が設けられている。

問1 下線部 a について、この原則を何というか答えなさい。

問2 下線部 b について、一度結んだ契約でも、訪問販売などの場合、一定の期間内であれば無条件に契約の解除ができる制度を何というか答えなさい。

問3 下線部 c について、アメリカのケネディ大統領が宣言した「消費者の四つの権利」に含まれないものを、次のア～オより一つ選び、記号で答えなさい。

- ア.安全を求める権利 イ.逮捕されない権利 ウ.知らされる権利 エ.選ぶ権利
オ.意見を聞いてもらう権利

問4 下線部 c について、下の表をみてあとの問いに答えなさい。

年	内容
1962	アメリカのケネディ大統領が「消費者の四つの権利」を提唱
1968	(①)法の施行<消費者の保護>
1976	訪問販売などの増加への対応
1995	d (②)法<PL法>の施行
2001	(③)法の施行
2004	(④)法の施行<消費者の自立支援>
2009	(⑤)の設置

(1) 表中の空欄 (①) ~ (⑤) にあてはまる語句を、次の語群より選び、記号で答えなさい。

- ア.消費者契約 イ.食品表示 ウ.消費者保護基本 エ.消費者保護庁
オ.製造物責任 カ.消費者基本 キ.消費者庁 ク.独占禁止

(2) 表中の下線部 d についての説明として正しいものを、次のア～エより一つ選び、記号で答えなさい。

- ア.ある商品を買って会員になったあと、さらに新たな会員を見つけて商品を売れば儲かるという誘い、商品を大量に購入させることを防ぐ法律
イ.消費者が被害を受けた場合は、消費者が製品を作った会社の過失を証明できなくても、損害賠償を受けられることを定めた法律
ウ.労働者と使用者の対立を調整し、両者の関係を正常にするための法律
エ.実際には使っていない有料サイトの利用料金などをメールやはがきなどで請求し、お金をだましとられることを防ぐ法律

受験番号

2026年度 大阪学院大学高等学校入学試験
社会解答用紙

※
得点

◎受験番号を忘れずに記入すること。

※印のところは記入しないこと。

1	問1(①)	問1(②)	問1(③)	問1(④)	問2	※	3	問1(①)	問1(②)	問1(③)	問1(④)	※ は2点 その他は1点	
	スエズ	ライン	スカンディナビア	パナマ	エ			推古	院政	後醍醐	種子島		
	問3	問4	問5	問6	問7			問1(⑤)		問2	問3		問4
	エ	エ	ウ	ウ	ア			フランシスコ=ザビエル		ウ	大宰府		エ
	問8	問9	問10	問11	問12			問5	問6	問7	問8		問9
	ドバイ	ア	14時間	イ	フラ			ウ	エ	ア	僧兵		ア
2	問1(①)	問1(②)	問1(③)	問2	問3	※	4	問1(①)	問1(②)	問2	問3	問4	※
	イ	ムガル帝国	ウ	ウ	ワット			国権	立法	イ	ア	エ	
	問4	問5	問6	問7	問8			問5	問6(①)	問6(②)			
	ア	リンカン	エ	ウ	ヒトラー			ウ	ウ	小選挙区比例代表並立制			
	問9	問10	/					問1	問2	問3	問4(①)①	問4(①)②	
ウ	ア							契約自由の原則	クーリング・オフ	イ	ウ	オ	
5	/						問4(①)③	問4(①)④	問4(①)⑤	問4(②)	※		
						ア	カ	キ	イ				
						/							